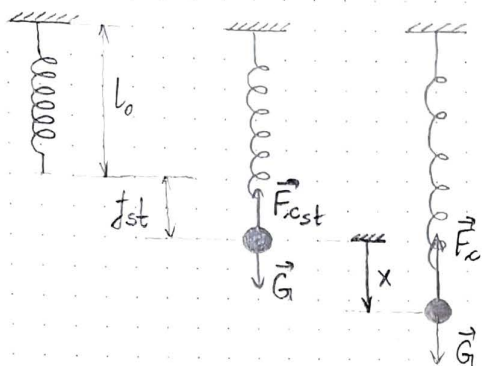


4.1. Тело тежине 2 N обешено је о еластичну опру, чија је крутост таква да под дејством силе од $0,5\text{ N}$ издужење износи 1 cm . Коју почетну брзину вертикалног правца треба саопштити телу у положају равнотеже да би амплитуде његових осцилација имале вредности 2 cm .



$$c = \frac{0,5\text{ N}}{1\text{ cm}} = 50 \frac{\text{N}}{\text{m}}$$

$$R = 2\text{ cm}$$

$$G = 2\text{ N}$$

$$\dot{x}_0 \dots ?$$

$$m\vec{a} = 0 = \vec{G} + \vec{F}_{cst} / \cdot \vec{e}$$

$$0 = G - cf_{st}$$

$$f_{st} = \frac{G}{c}$$

$$m\vec{a} = \vec{G} + \vec{F}_c / \cdot \vec{e}$$

$$m\ddot{x} = G - c(x + f_{st})$$

$$m\ddot{x} = G - cx - cf_{st}$$

$$m\ddot{x} + cx = 0 \quad / : m$$

$$\ddot{x} + \omega^2 x = 0 \quad \omega^2 = \frac{c}{m}$$

$$\lambda^2 + \omega^2 = 0 \Rightarrow \lambda_{1,2} = \pm i\omega$$

$$x = A_1 e^{i\omega t} + A_2 e^{-i\omega t}$$

$$e^{\pm ikt} = \cos kt \pm i \sin kt$$

$$x = C_1 \cos \omega t + C_2 \sin \omega t$$

$$C_1 = R \cos \alpha, \quad C_2 = R \sin \alpha$$

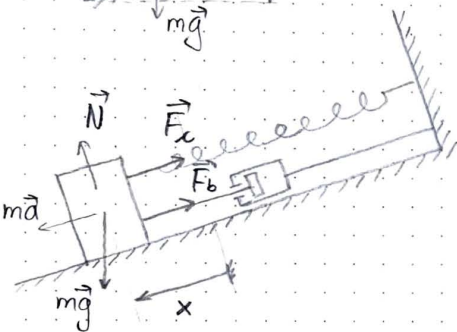
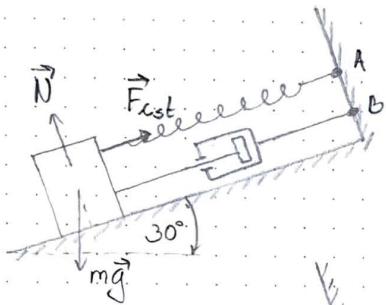
$$x = R \cos \alpha \cos \omega t + R \sin \alpha \sin \omega t$$

$$x = R \cos(\omega t - \alpha) \quad \stackrel{t=0}{\Rightarrow} 0 = R \cos(-\alpha) = R \cos \alpha \Rightarrow \cos \alpha = 0 \Rightarrow \alpha = \frac{\pi}{2} + k\pi$$

$$\dot{x} = -R\omega \sin(\omega t - \alpha) \quad \stackrel{t=0}{\Rightarrow} \dot{x}_0 = -R\omega \sin(-\alpha) = R\omega \sin \alpha \leftarrow$$

$$\dot{x}_0 = R \sqrt{\frac{c}{m}} = R \sqrt{\frac{cg}{G}} = 0,02\text{ m} \sqrt{\frac{50 \cdot 9,81}{2}} \Rightarrow \underline{\dot{x}_0 = 0,31 \frac{\text{m}}{\text{s}}}$$

4.30. Тело масе m везано је спиралом кружности c за непокретну тачку А и приушћивачем за непокретну тачку В. Оно може да клизи по тачкој спиралној равни нагиба $\alpha = 30^\circ$. Кретањем клина у цилиндру приушћивача јавља се сила отпора, пропорционална првој степеној брзине клина у односу на цилиндар. Коэф. пропорционалности је β . одредити коефицијент β тако да је период осциловања 2 пута већи од периода осциловања без приушћивача.



$$m\vec{a} = 0 = m\vec{g} + \vec{N} + \vec{F}_{cst} / \cdot \vec{i}$$

$$0 = mg \sin 30^\circ - F_{cst}$$

$$0 = \frac{1}{2}mg - c f_{st}$$

$$f_{st} = \frac{mg}{2c}$$

$$m\vec{a} = m\vec{g} + \vec{N} + \vec{F}_c + \vec{F}_b / \cdot \vec{i}$$

$$m\ddot{x} = mg \sin 30^\circ - c(x + f_{st}) - \beta \dot{x}$$

$$m\ddot{x} + \beta \dot{x} + cx = \frac{1}{2}mg - c f_{st} = 0 \quad / : m$$

$$\ddot{x} + 2\delta \dot{x} + \omega^2 x = 0 \quad 2\delta = \frac{\beta}{m}, \quad \omega^2 = \frac{c}{m}$$

$$\lambda^2 + 2\delta \lambda + \omega^2 = 0$$

$$\lambda_{1,2} = -\delta \pm \sqrt{\delta^2 - \omega^2}, \quad \rho^2 = \omega^2 - \delta^2 \quad \text{коэффициент приушћивања}$$

$$T_p = 2T_\omega$$

$$\frac{2\pi}{p} = 2 \frac{2\pi}{\omega}$$

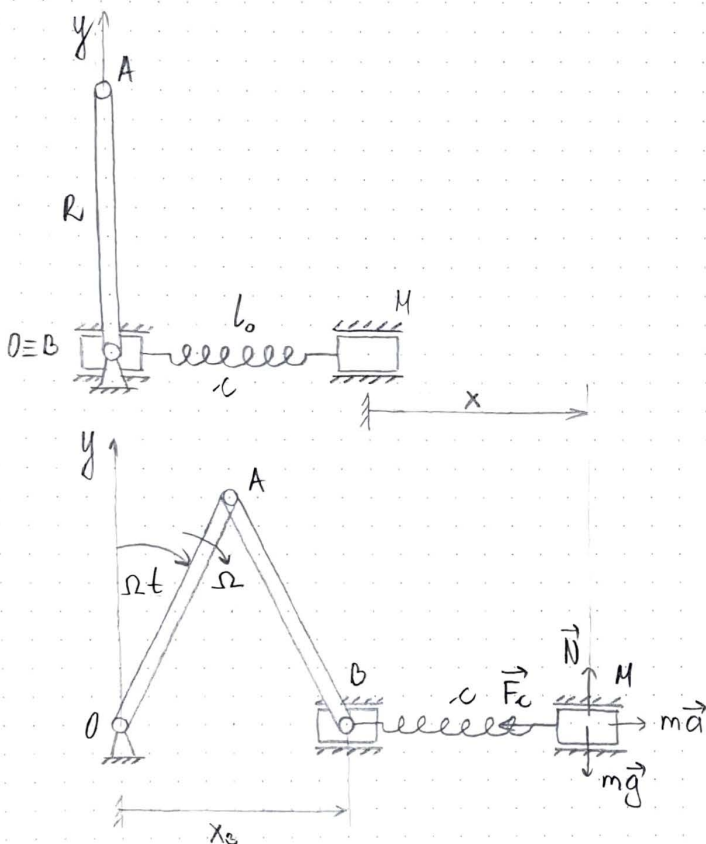
$$p = \frac{\omega}{2} = \sqrt{\omega^2 - \frac{\beta^2}{4m^2}} / 2$$

$$\frac{\omega^2}{4} = \omega^2 - \frac{\beta^2}{4m^2}$$

$$\frac{3}{4}\omega^2 = \frac{\beta^2}{4m^2} \Rightarrow \beta^2 = 3m^2\omega^2$$

$$\underline{\beta = \sqrt{3}m\omega}$$

4.38. Криваја ОА клинског механизма обрће се константним угаоним брзином $\Omega = \sqrt{\frac{c}{m}}$. За клизач В механизам везано је опругом крутости c тело M масе m које може да се креће по главној хоризонталној осовини. Ако је у поч. пр. опруга била ненапрегнута, а тело мирovalo, написати коначну једначину кретања тела. За коорд. поч. узети почетни положај тела M . Узети да је $\overline{OA} = \overline{AB} = R$. У почетном тренутку штапови су били вертикални.



$$x_0 = 2R \sin \Omega t = 2R \sin \left(\sqrt{\frac{c}{m}} t \right)$$

$$F_c = -c(x - x_0) = -c \left(x - 2R \sin \sqrt{\frac{c}{m}} t \right)$$

$$m\vec{a} = m\vec{g} + \vec{N} + \vec{F}_c \quad / \cdot \vec{i}$$

$$m\ddot{x} = -cx + 2Rc \sin \sqrt{\frac{c}{m}} t$$

$$m\ddot{x} + cx = 2Rc \sin \sqrt{\frac{c}{m}} t \quad / : m$$

$$\ddot{x} + \omega^2 x = 2R\omega^2 \sin \sqrt{\frac{c}{m}} t$$

$$\ddot{x} + \omega^2 x = 0$$

$$\lambda^2 + \omega^2 = 0 \Rightarrow \lambda_{1,2} = \pm i\omega$$

$$x_h = C_1 \cos \omega t + C_2 \sin \omega t$$

$$\omega = \sqrt{\frac{c}{m}} = \Omega \Rightarrow \text{РЕЗОНАНЦИЈА}$$

$$x_p = t(A \cos \Omega t + B \sin \Omega t)$$

$$\dot{x}_p = A \cos \Omega t + B \sin \Omega t$$

$$+ t(-A\Omega \sin \Omega t + B\Omega \cos \Omega t)$$

$$\ddot{x}_p = -A\Omega \sin \Omega t + B\Omega \cos \Omega t$$

$$+ (-A\Omega^2 \cos \Omega t + B\Omega^2 \sin \Omega t)$$

$$+ t(-A\Omega^2 \cos \Omega t - B\Omega^2 \sin \Omega t)$$

$$= 2\Omega(B \cos \Omega t - A \sin \Omega t)$$

$$- t\Omega^2(A \cos \Omega t + B \sin \Omega t)$$

$$2\Omega(B \cos \Omega t - A \sin \Omega t)$$

$$- t\Omega^2(A \cos \Omega t + B \sin \Omega t)$$

$$+ \omega^2 t(A \cos \Omega t + B \sin \Omega t)$$

$$= 2R\omega^2 \sin \sqrt{\frac{c}{m}} t, \quad \omega = \Omega$$

$$2\Omega B - t\Omega^2 A + \omega^2 t A = 0 \Rightarrow B = 0$$

$$- 2\Omega A - t\Omega^2 B + \omega^2 t B = 2R\omega^2 \quad / : \omega = \Omega$$

$$- 2A = 2R\omega \Rightarrow A = -R\omega$$

$$x_p = -R\omega t \cos \Omega t$$

$$\text{O.P. } x = C_1 \cos \omega t + C_2 \sin \omega t - R\omega t \cos \Omega t$$

$$\dot{x} = -C_1 \omega \sin \omega t + C_2 \omega \cos \omega t$$

$$- R\omega(\cos \Omega t - t\Omega \sin \Omega t)$$

$$0 = C_1 + 0 - 0 \Rightarrow C_1 = 0$$

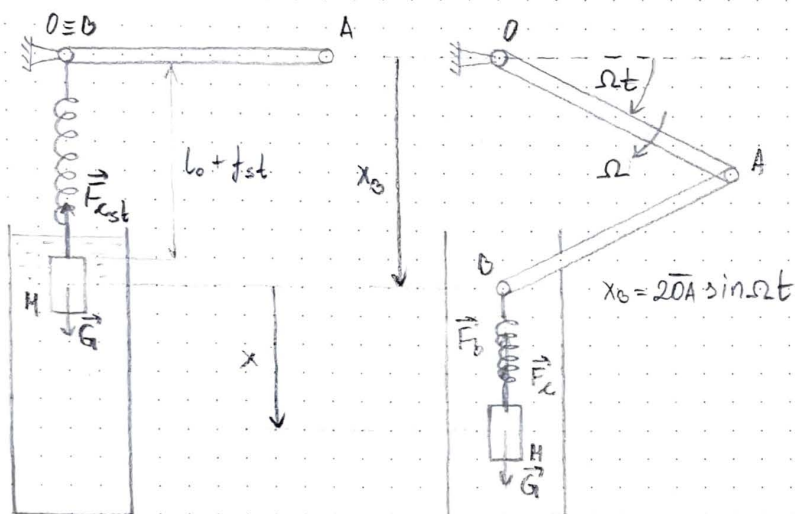
$$0 = -0 + C_2 \omega - R\omega + 0 \Rightarrow C_2 = R$$

$$x = R \sin \omega t - R\omega t \cos \Omega t$$

$$\underline{x = R \sin \left(\sqrt{\frac{c}{m}} t \right) - R \sqrt{\frac{c}{m}} t \cos \left(\sqrt{\frac{c}{m}} t \right)}$$

4.43. Горњи крај окрете крућости $c = 0,5 \frac{\text{N}}{\text{cm}}$ везан је за тачку В кљипног механизма, а доњи крај за тело М тежине $G = 1 \text{ N}$. Криваја ОА обрће се константним угловном брзином $\Omega = 4\pi \text{ s}^{-1}$, а тело М при томе осцилује у отпорној средини у којој је при брзини $v = 1 \frac{\text{cm}}{\text{s}}$ сила отпора $0,02 \text{ N}$. Одreditи коначну једначину кретања тела М око положаја статичке равнотеже који одговара углу $\varphi_0 = 0$. Узети да је $\overline{OA} = \overline{AB} = 3 \text{ cm}$.

* КАДА СЕ ТРАЖЕ ПРИМУДНЕ ОСЦИЛАЦИЈЕ (ЗБИРКА) \Rightarrow ОДРЕДИТИ САМО x_p !



$$c = 0,5 \frac{\text{N}}{\text{cm}} = 0,5 \cdot 100 \frac{\text{N}}{\text{m}} = 50 \frac{\text{N}}{\text{m}}$$

$$G = 1 \text{ N}$$

$$\Omega = 4\pi \text{ s}^{-1}$$

$$B = \frac{F_b}{v} = \frac{0,02}{1} = 0,02 \frac{\text{Ns}}{\text{cm}} = 2 \frac{\text{kg}}{\text{s}}$$

$$\varphi_0 = 0 \Rightarrow \text{стат. равн.}$$

$$\overline{OA} = \overline{AB} = 3 \text{ cm} = 0,03 \text{ m}$$

$$\delta = \frac{B}{2m} = \frac{B}{2G} \approx \frac{2 \cdot 10}{2 \cdot 1} \approx 10$$

$$\omega^2 = \frac{c}{m} = \frac{c}{G} \approx \frac{50 \cdot 10}{1} \approx 500$$

$$\omega = \sqrt{500} = \sqrt{5} \cdot 10 \quad \omega > \delta!$$

$$m\vec{a} = 0 = \vec{G} + \vec{F}_{cst} / \cdot \vec{e}$$

$$0 = G - c f_{st} \Rightarrow f_{st} = \frac{G}{c}$$

$$m\vec{a} = \vec{G} + \vec{F}_c + \vec{F}_b / \cdot \vec{e}$$

$$m\ddot{x} = G - c(f_{st} + x - x_0) - B\dot{x} / \cdot m$$

$$\ddot{x} + 2\delta\dot{x} + \omega^2 x = 2\omega^2 \overline{OA} \sin \Omega t$$

$$\ddot{x} + 20\dot{x} + 500x = 30 \sin(4\pi t)$$

$$\lambda^2 + 20\lambda + 500 = 0$$

$$\lambda_{1,2} = \frac{-20 \pm \sqrt{400 - 4 \cdot 500}}{2} = \frac{-20 \pm i40}{2}$$

$$\lambda_{1,2} = -10 \pm i20$$

$$x_h = e^{-10t} (c_1 \cos 20t + c_2 \sin 20t)$$

$$x_p = A \cos \Omega t + B \sin \Omega t$$

$$\dot{x}_p = -A\Omega \sin \Omega t + B\Omega \cos \Omega t$$

$$\ddot{x}_p = -A\Omega^2 \cos \Omega t - B\Omega^2 \sin \Omega t$$

$$-A\Omega^2 \cos \Omega t - B\Omega^2 \sin \Omega t$$

$$-20A\Omega \sin \Omega t + 20B\Omega \cos \Omega t$$

$$+ 500A \cos \Omega t + 500B \sin \Omega t$$

$$= 30 \sin \Omega t$$

$$-B\Omega^2 - 20A\Omega + 500B = 30$$

$$-A\Omega^2 + 20B\Omega + 500A = 0$$

$$\Omega^2 = 16\pi^2$$

$$342,25B - 251,2A = 30$$

$$251,2B + 342,25A = 0 \quad / \cdot \frac{342,25}{251,2}$$

$$-251,2A - \frac{(342,25)^2}{251,2} A = 30 / \cdot 251,2$$

$$-(251,2)^2 A - (342,25)^2 A = 30 \cdot 251,2$$

$$A = -\frac{30 \cdot 251,2}{(251,2)^2 + (342,25)^2} = -0,042$$

$$B = -\frac{342,25}{251,2} A = 0,057$$

$$x_p = -0,042 \cos 4\pi t + 0,057 \sin 4\pi t$$

$$x = e^{-10t} (c_1 \cos 20t + c_2 \sin 20t)$$

$$-0,042 \cos 4\pi t + 0,057 \sin 4\pi t$$

$$\dot{x} = -10e^{-10t} (c_1 \cos 20t + c_2 \sin 20t)$$

$$+ e^{-10t} (-20c_1 \sin 20t + 20c_2 \cos 20t)$$

$$+ 0,527 \sin 4\pi t + 0,716 \cos 4\pi t$$

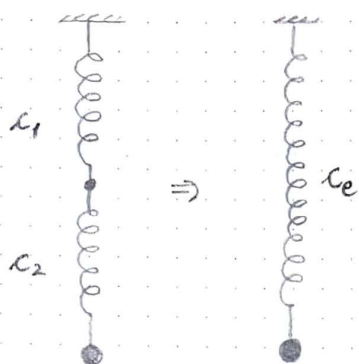
$$0 = c_1 - 0,042 \Rightarrow c_1 = 0,042$$

$$0 = -10c_1 + 20c_2 + 0,716 \Rightarrow c_2 = 0,0148$$

$$x = e^{-10t} (0,042 \cos 20t + 0,0148 \sin 20t)$$

$$-0,042 \cos 4\pi t + 0,057 \sin 4\pi t$$

I



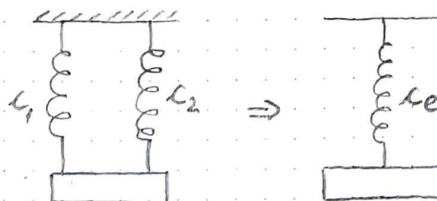
$$\Delta X = \Delta X_1 + \Delta X_2$$

$$F_c = F_{c1} = F_{c2}$$

$$\frac{F_c}{c_e} = \frac{F_{c1}}{c_1} + \frac{F_{c2}}{c_2} \quad / : F_c$$

$$\boxed{\frac{1}{c_e} = \frac{1}{c_1} + \frac{1}{c_2}}$$

II



$$\Delta X = \Delta X_1 = \Delta X_2$$

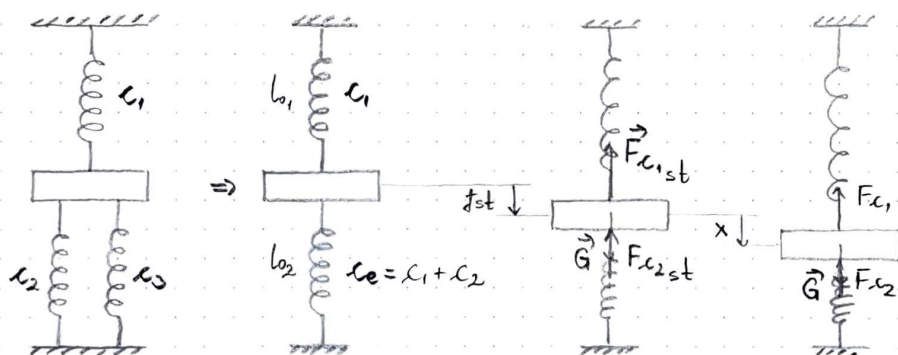
$$F_c = F_{c1} + F_{c2}$$

$$c_e \Delta X = c_1 \Delta X_1 + c_2 \Delta X_2 \quad / : \Delta X$$

$$\boxed{c_e = c_1 + c_2}$$

ЭКВИВАЛЕНТНА КРУТОСТ ОПРУГЕ

4.8. Тело масе $m = 1 \text{ kg}$ везано је вертикалним опругама крутошти $c_1 = 2 \frac{\text{N}}{\text{cm}}$, $c_2 = c_3 = 7 \frac{\text{N}}{\text{cm}}$. Одредити крутну фреквенцију вертикалних осцилација тела.



$$m\vec{a} = 0 = \vec{G} + \vec{F}_{c1st} + \vec{F}_{c2st}$$

$$0 = G - c_1 f_{st} - c_e f_{st}$$

$$(c_1 + c_e) f_{st} = G$$

$$m\vec{a} = \vec{G} + \vec{F}_{c1} + \vec{F}_{c2}$$

$$m\ddot{x} = G - c_1(f_{st} + x) - c_e(f_{st} + x)$$

$$m\ddot{x} + (c_1 + c_e)x = 0$$

$$c = c_1 + c_e = c_1 + c_2 + c_3$$

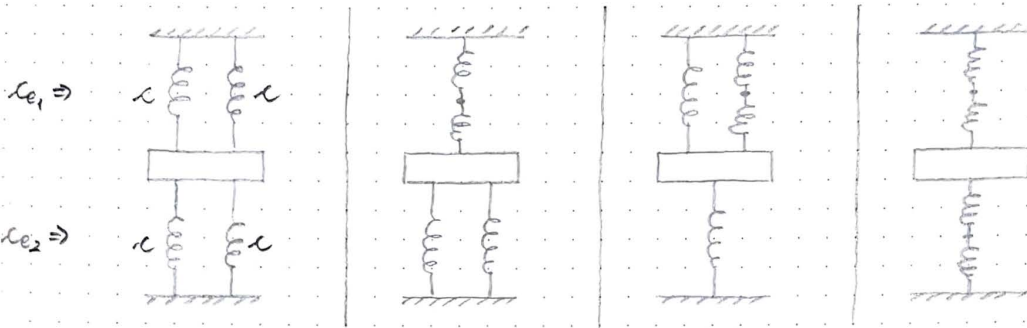
$$m\ddot{x} + cX = 0 \quad / : m$$

$$\ddot{x} + \omega^2 X = 0$$

$$\omega^2 = \frac{c}{m} = \frac{c_1 + c_2 + c_3}{m}$$

$$\omega = \sqrt{\frac{16 \frac{\text{N}}{\text{cm}}}{1 \text{ kg}}} = 4 \sqrt{100 \frac{\text{kg} \frac{\text{m}}{\text{s}^2} \cdot \frac{1}{\text{s}^2}}{\text{kg}}} \Rightarrow \underline{\omega = 40 \text{ s}^{-1}}$$

4.3. Тело масе m , везано помоћу четири опруге једнаких крутошти c , врши вертикалне осцилације. На сликама приказана су четири различита начина везивања опруга. Одредити периоде осциловања за сва четири случаја.

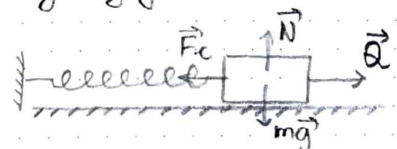


$$T = \frac{2\pi}{\omega}$$

Из задатка 4.8. види се да је $\omega^2 = \frac{c_{e1} + c_{e2}}{m} = \frac{c_e}{m}$

$c_{e1} = 2c$	$\frac{1}{c_{e1}} = \frac{1}{c} + \frac{1}{c} = \frac{2}{c}$	$c_{e1} = c + \frac{c}{2} = \frac{3}{2}c$	$c_{e1} = \frac{c}{2}$
$c_{e2} = 2c$	$c_{e1} = \frac{c}{2}$	$c_{e2} = c$	$c_{e2} = \frac{c}{2}$
$\omega^2 = \frac{4c}{m}$	$c_{e2} = 2c$	$\omega^2 = \frac{5c}{2m}$	$\omega^2 = \frac{c}{m}$
$\omega = 2\sqrt{\frac{c}{m}}$	$\omega^2 = \frac{\frac{5}{2}c}{m} = \frac{5c}{2m}$	$T = 2\pi\sqrt{\frac{2m}{5c}}$	$T = 2\pi\sqrt{\frac{m}{c}}$
$T = \pi\sqrt{\frac{m}{c}}$	$T = 2\pi\sqrt{\frac{2m}{5c}}$		

4.37. Тело А масе $m = 1 \text{ kg}$ везано опругом крутошти $c = 0,1 \frac{\text{kN}}{\text{m}}$ креће се по хоризонталној глаткој равни под дејством принудне силе $Q = 10 \sin(10t + \frac{1}{3}) [\text{N}]$, $t \in \mathbb{R}$. Одредити принудне осцилације тела А.



$$m\vec{a} = m\vec{g} + \vec{N} + \vec{F}_c + \vec{Q} \quad / : \vec{e}$$

$$m\ddot{x} = -cx + 10\sin(10t + \frac{1}{3})$$

$$m\ddot{x} + cx = 10\sin(10t + \frac{1}{3}) \quad / : m$$

$$\ddot{x} + 100x = 10\sin(10t + \frac{1}{3})$$

$$\omega^2 = \frac{c}{m} = 100$$

$$\lambda^2 + 100 = 0 \Rightarrow \lambda_{1,2} = \pm i10$$

$$x_h = C_1 \cos 10t + C_2 \sin 10t$$

Да ли има резонанције?!

$$\omega = 10$$

$$\Omega = 10$$

иако код принудне силе постоји фазна разлика!

$$\sin(10t + \frac{1}{3}) = \sin 10t \cos \frac{1}{3} + \cos 10t \sin \frac{1}{3}$$

$$\ddot{x} + 100x = 10\cos \frac{1}{3} \cdot \sin 10t + 10\sin \frac{1}{3} \cdot \cos 10t \quad \underline{\omega = \Omega!}$$

$$x_p = t(A \sin 10t + B \cos 10t)$$

$$\dot{x}_p = A \sin 10t + B \cos 10t + t(10A \cos 10t - 10B \sin 10t)$$

$$\ddot{x}_p = 20A \cos 10t - 20B \sin 10t - t(100A \sin 10t + 100B \cos 10t)$$

$$20A \cos 10t - 20B \sin 10t - 100At \sin 10t - 100Bt \cos 10t$$

$$+ 100At \sin 10t + 100Bt \cos 10t = 10\cos \frac{1}{3} \sin 10t + 10\sin \frac{1}{3} \cos 10t$$

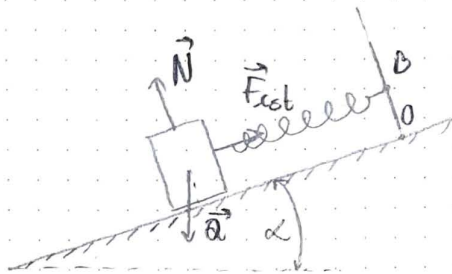
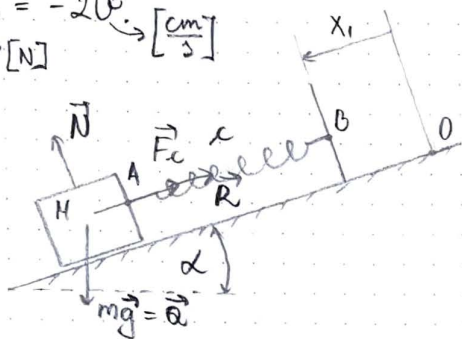
$$20A - 100Bt + 100Bt = 10\sin \frac{1}{3} \Rightarrow A = \frac{1}{2} \sin \frac{1}{3}$$

$$-20B - 100At + 100At = 10\cos \frac{1}{3} \Rightarrow B = -\frac{1}{2} \cos \frac{1}{3}$$

$$x_p = \frac{1}{2} t \left(\sin \frac{1}{3} \sin 10t - \cos \frac{1}{3} \cos 10t \right)$$

$$x_p = -\frac{1}{2} t \cos(10t + \frac{1}{3})$$

4.42. На стирној равни нагиба $\alpha = 30^\circ$ налази се тело M тежине $Q = 100\text{ N}$. Тело је везано за крај A еластичне опруге крућости $c = 50 \frac{\text{N}}{\text{cm}}$. Крај B опруге креће се дуж осе опруге по закону $x_1 = 2 \sin(15t)$.
Одредити једначину принудних осцилација тела M , ако се при његовом кретању јавља и сила отпора $\vec{R} = -2\vec{v} \rightarrow [\frac{\text{cm}}{\text{s}}]$
 $\rightarrow [\text{N}]$



$$m\vec{a} = 0 = \vec{Q} + \vec{N} + \vec{F}_{cst}$$

$$0 = Q \sin \alpha - c \dot{x}_{st}$$

$$c \dot{x}_{st} = \frac{1}{2} Q$$

$$m\vec{a} = \vec{Q} + \vec{N} + \vec{F}_c + \vec{R}$$

$$F_c = c(\dot{x}_{st} + x - x_1)$$

$$c = 50 \frac{\text{N}}{\text{cm}} = 50 \cdot 100 \frac{\text{N}}{\text{m}} = 5000 \frac{\text{N}}{\text{m}}$$

$$R = -2\dot{x}, \quad \dot{x} \left[\frac{\text{cm}}{\text{s}} \right], R[\text{N}] \Rightarrow -2 \left[\frac{\text{kg}}{\text{s}} \cdot 10^2 \right] \cdot \dot{x} \left[\frac{10^{-2} \text{m}}{\text{s}} \right] = R[\text{N}] \Rightarrow R = -2 \cdot 10^2 \dot{x}$$

$$m\ddot{x} = Q - c(\dot{x}_{st} + x - x_1) - 200\dot{x} \quad m = \frac{G}{g} = 10,19 \text{ kg}$$

$$10,19\ddot{x} + 200\dot{x} + 5000x = 5000 \cdot 2 \sin(15t) \quad / : 10,19$$

$$\ddot{x} + 19,63\dot{x} + 490,68x = 981,35 \sin(15t)$$

$$x_p = A \sin 15t + B \cos 15t \Rightarrow \dot{x}_p = 15A \cos 15t - 15B \sin 15t \Rightarrow \ddot{x}_p = -225(A \sin 15t + B \cos 15t)$$

$$-225A \sin 15t - 225B \cos 15t + 294,45A \cos 15t - 294,45B \sin 15t$$

$$+ 490,68A \sin 15t + 490,68B \cos 15t = 981,35 \sin 15t$$

$$-225A - 294,45B + 490,68A = 981,35$$

$$-225B + 294,45A + 490,68B = 0 \Rightarrow A = -\frac{265,68}{294,45} B = -0,902B$$

$$\rightarrow 265,68(-0,902B) - 294,45B = 981,35 \Rightarrow B = 1,837$$

$$A = -1,657$$

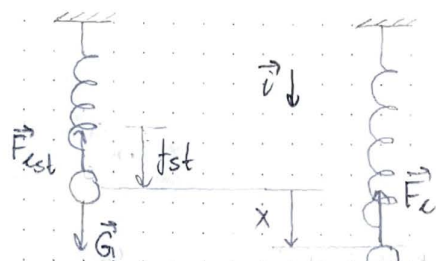
$$\underline{x_p = -1,657 \sin 15t + 1,837 \cos 15t}$$

8.32

$$G = 2,45 \text{ N}$$

$$c = 1 \frac{\text{N}}{\text{cm}} = 100 \frac{\text{N}}{\text{m}}$$

$$F = 1,8 \sin(16t) [\text{N}]$$

 $x_p = ?$


$$0 = \vec{G} + \vec{F}_{cst} / \vec{v}$$

$$0 = G - F_{cst}$$

$$F_{cst} = c f_{st}$$

$$0 = G - c f_{st}$$

$$\vec{F} \downarrow \vec{G}$$

$$m \vec{a} = \vec{G} + \vec{F}_c + \vec{F} / \vec{v}$$

$$m \ddot{x} = G - F_c + F$$

$$F_c = -c(f_{st} + x)$$

$$m \ddot{x} = G - c(f_{st} + x) + F$$

$$m \ddot{x} + c x = F / : m$$

$$\ddot{x} + \omega^2 x = \frac{1}{m} \cdot 1,8 \sin(16t), \quad m = \frac{G}{g} \approx 0,25 \text{ kg}$$

$$\omega^2 = \frac{c}{m} = 400 \text{ s}^{-2}$$

$$\ddot{x} + 400 x = 7,2 \sin(16t)$$

$$\left. \begin{array}{l} \omega = 20 \\ \Omega = 16 \end{array} \right\} \text{ НЕМА РЕЗОНАНСА}$$

$$x_p = A \sin 16t + B \cos 16t$$

$$\dot{x}_p = 16A \cos 16t - 16B \sin 16t$$

$$\ddot{x}_p = -16^2 A \sin 16t - 16^2 B \cos 16t = -16^2 x_p$$

$$-16^2 x_p + 400 x_p = 7,2 \sin 16t$$

$$(-16^2 + 400)(A \sin 16t + B \cos 16t) = 7,2 \sin 16t$$

$$B = 0$$

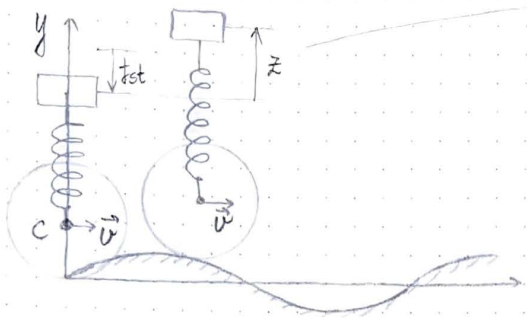
$$A = \frac{7,2}{400 - 16^2} = 0,05$$

$$x_p = 0,05 \sin 16t \quad [\text{m}]$$

$$* x_p = 5 \sin 16t \quad [\text{cm}]$$

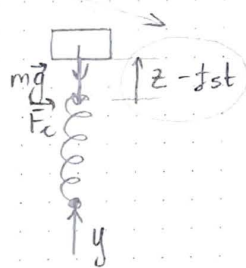
4.34. $v = 30 \frac{m}{s}$, $G = 2 kN$, $c = 40 \frac{kN}{m}$, $y = a \sin \frac{\pi x}{l}$, $a = 1,5 cm$, $l = 2,5 m$

ДУНЕХЗУЈЕ ТОҶА
СЕ ҶАҲМАҶУ



$$\vec{F}_{cst} \downarrow m\vec{g} \downarrow$$

$$mg - c \cdot z_{st} = 0$$



$$m\vec{a} = m\vec{g} + \vec{F}_c / \cdot \vec{z}$$

$$m\ddot{z} = -mg - F_c \quad F_c = c(z - z_{st} - y)$$

$$m\ddot{z} = -mg - c(z - z_{st} - y)$$

$$m\ddot{z} + cz = cy$$

$$\ddot{z} + \omega^2 z = \omega^2 a \cdot \sin \frac{\pi x}{l}$$

$$x = vt$$

$$v \left[\frac{m}{s} \right], l [m]$$

$$\omega^2 = \frac{c}{m} = \frac{40000}{2000} = 196,2 s^{-2}$$

$$\ddot{z} + 196,2 [s^{-2}] z = 196,2 [s^{-2}] \cdot 1,5 [cm] \sin \frac{\pi \cdot 30t}{2,5}$$

$$\ddot{z} + 196,2 z = 294,3 \sin 12\pi t [cm]$$

$$z_p = A \cos 12\pi t + B \sin 12\pi t \Rightarrow \dot{z}_p = -12\pi A \sin 12\pi t + 12\pi B \cos 12\pi t$$

$$\Rightarrow \ddot{z}_p = -144\pi^2 z_p$$

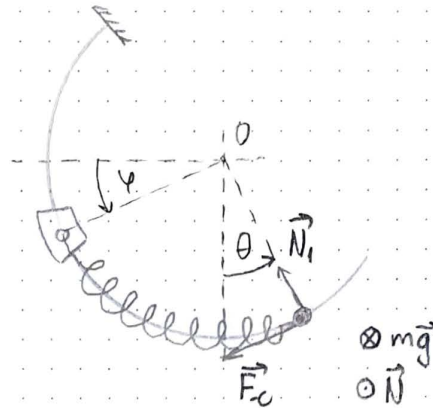
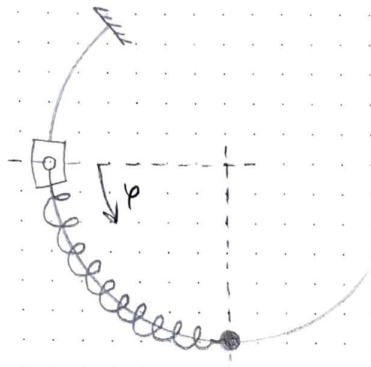
$$(-144\pi^2 + 196,2)(A \cos 12\pi t + B \sin 12\pi t) = 294,3 \sin 12\pi t$$

$$A = 0$$

$$(-144\pi^2 + 196,2) B = 294,3 \Rightarrow B = -0,24$$

$$z_p = -0,24 \sin 12\pi t \Rightarrow A = 0,24 cm$$

4.40. $m = 1 \text{ kg}$ ХОП. РАБАТ! $c = 1 \frac{\text{N}}{\text{cm}}$ $\varphi = \sin(10t)$ $t_0 = 0 \Rightarrow$ ОПРУГА НЕ НАПРЯЖЕНА ТАЧКА ХУЉУЈЕ.
 $\theta(t) \dots ?$



$$m\vec{a} = m\vec{g} + \vec{N} + \vec{N}_1 + \vec{F}_c \quad / \cdot \vec{e}$$

$$ma_t = -F_c$$

$$F_c = cR(\theta - \varphi), \quad a_t = R\ddot{\theta}$$

$$mR\ddot{\theta} = -cR(\theta - \varphi)$$

$$m\ddot{\theta} + c\theta = c\varphi \quad / : m$$

$$\ddot{\theta} + \omega^2\theta = \omega^2 \sin(10t)$$

$$\omega^2 = \frac{c}{m} = \frac{100}{1} = 100 \quad \left. \begin{array}{l} \\ \end{array} \right\} \text{РЕЗОНАНСНАЈ}$$

$$\ddot{\theta} + 100\theta = 100 \sin(10t) \quad \omega = 10$$

$$\lambda^2 + 100 = 0 \Rightarrow \lambda_{1,2} = \pm i10$$

$$\theta_h = C_1 \cos 10t + C_2 \sin 10t$$

$$\theta_p = t(A \cos 10t + B \sin 10t) \Rightarrow \theta_p = A \cos 10t + B \sin 10t + t(-10A \sin 10t + 10B \cos 10t)$$

$$\dot{\theta}_p = -20A \sin 10t + 20B \cos 10t - 100x_p$$

$$-20A \sin 10t + 20B \cos 10t - 100x_p + 100x_p = 100 \sin(10t)$$

$$\left. \begin{array}{l} B = 0 \\ A = 5 \end{array} \right\} \theta_p = 5t \cos 10t$$

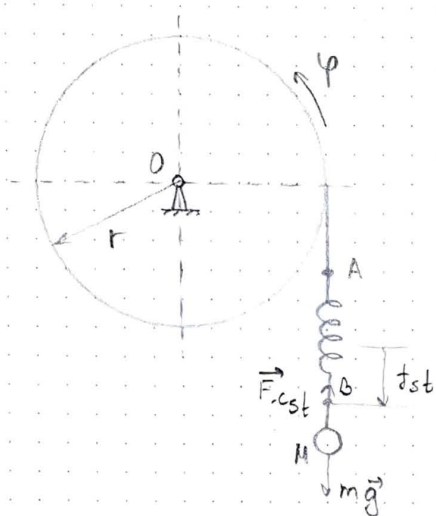
$$\theta = C_1 \cos 10t + C_2 \sin 10t + 5t \cos 10t$$

$$\dot{\theta} = -10C_1 \sin 10t + 10C_2 \cos 10t + 5 \cos 10t - 50t \sin 10t$$

$$0 = C_1$$

$$0 = 10C_2 + 5 \Rightarrow C_2 = -\frac{1}{2} \quad \left. \begin{array}{l} \\ \end{array} \right\} \underline{\theta(t) = -\frac{1}{2} \sin 10t + 5t \cos 10t}$$

4.33. r c $M:m$ $\varphi = \varphi_0 \sin \Omega t$ $x_p \dots ?$ a) $\Omega \neq \sqrt{\frac{c}{m}}$ b) $\Omega = \sqrt{\frac{c}{m}}$

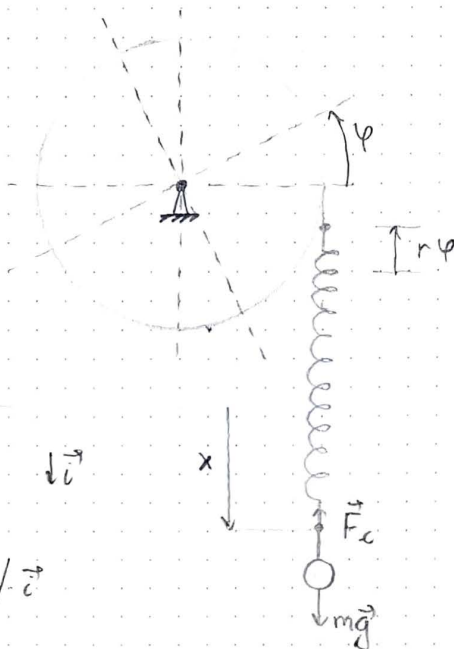


$$0 = m\vec{g} + \vec{F}_{cst} / \vec{e}$$

$$0 = mg - F_{cst}$$

$$F_{cst} = c f_{st}$$

$$0 = mg - c f_{st}$$



$$m\vec{a} = m\vec{g} + \vec{F}_c / \vec{e}$$

$$m\ddot{x} = mg - F_c$$

$$F_c = c(f_{st} + x + r\varphi)$$

$$m\ddot{x} = mg - c(f_{st} + x + r\varphi)$$

$$m\ddot{x} + cx = -cr\varphi \quad / : m$$

$$\ddot{x} + \frac{c}{m}x = -\frac{cr}{m}\varphi_0 \sin \Omega t$$

$$\ddot{x} + \omega^2 x = h \sin \Omega t, \quad \omega^2 = \frac{c}{m}, \quad h = -\frac{cr\varphi_0}{m}$$

a) $\Omega \neq \sqrt{\frac{c}{m}} \neq \omega$

$$x_p = A \sin \Omega t + B \cos \Omega t \Rightarrow \dot{x}_p = A \Omega \cos \Omega t - B \Omega \sin \Omega t \Rightarrow \ddot{x}_p = -\Omega^2 A \sin \Omega t - \Omega^2 B \cos \Omega t$$

$$-\Omega^2 A \sin \Omega t - \Omega^2 B \cos \Omega t + \omega^2 A \sin \Omega t + \omega^2 B \cos \Omega t = h \sin \Omega t$$

$$\left. \begin{aligned} -\Omega^2 A + \omega^2 A &= h \Rightarrow A = \frac{h}{\omega^2 - \Omega^2} \\ -\Omega^2 B + \omega^2 B &= 0 \Rightarrow B = 0 \end{aligned} \right\} x_p = \frac{h}{\omega^2 - \Omega^2} \sin \Omega t$$

b) $\Omega = \sqrt{\frac{c}{m}} = \omega \Rightarrow \text{РЕЗОНАНС}$

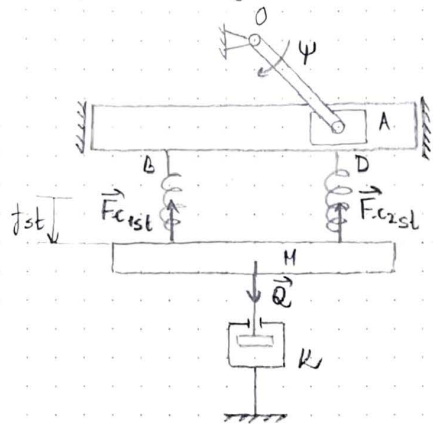
$$x_p = t(A \sin \Omega t + B \cos \Omega t) \Rightarrow \dot{x}_p = A \sin \Omega t + B \cos \Omega t + t(A \Omega \cos \Omega t - B \Omega \sin \Omega t)$$

$$\ddot{x}_p = 2A \Omega \cos \Omega t - 2B \Omega \sin \Omega t + t(-\Omega^2 A \sin \Omega t - \Omega^2 B \cos \Omega t)$$

$$2A \Omega \cos \Omega t - 2B \Omega \sin \Omega t + t(-\Omega^2 A \sin \Omega t - \Omega^2 B \cos \Omega t) + \omega^2 t(A \sin \Omega t + B \cos \Omega t) = h \sin \Omega t$$

$$\left. \begin{aligned} -2B \Omega &= h \Rightarrow B = -\frac{h}{2\Omega} \\ 2A \Omega &= 0 \Rightarrow A = 0 \end{aligned} \right\} x_p = -\frac{h}{2\Omega} t \cos \Omega t$$

4.44. Платина теша M је $Q = 98 \text{ N}$, коефицијенти крутоћи ојруја, закатени за кулису BD , су $c = 6,8 \frac{\text{N}}{\text{cm}}$. Приушивач K даје силу оштора такву да је коефицијент приуивања једнак крутној фреквенцији слободних осцилација ($\delta = \omega$). Одредити једначину принудних осцилација теша M ако је $\overline{OA} = 7,5 \text{ cm}$, а ујасна брзина криваје OA константна и износи 63^{-1} .



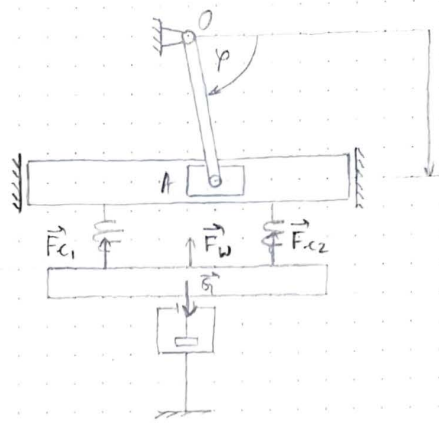
$$0 = \vec{Q} + \vec{F}_{c1st} + \vec{F}_{c2st} / \cdot \vec{i}$$

$$0 = Q - F_{c1st} - F_{c2st}$$

$$F_{c1st} = F_{c2st} = c f_{st}$$

$$0 = Q - c f_{st} - c f_{st}$$

$$\star 0 = Q - 2c f_{st}$$



$$\overline{OA} \sin \varphi, \quad \varphi = \text{const.} \Rightarrow \varphi = \varphi t$$

$$c = 6,8 \frac{\text{N}}{\text{cm}} = 680 \frac{\text{N}}{\text{m}}$$

$$\varphi = 63^{-1}$$

$$\overline{OA} = 7,5 \text{ cm} = 0,075 \text{ m}$$

$$Q = 98 \text{ N}$$

$$m \vec{a} = \vec{Q} + \vec{F}_{c1} + \vec{F}_{c2} + \vec{F}_w / \cdot \vec{e}$$

$$m \ddot{x} = Q - F_{c1} - F_{c2} - F_w$$

$$F_{c1} = F_{c2} = c (f_{st} + x - \overline{OA} \sin \varphi t)$$

$$F_w = B \dot{x}$$

$$m \ddot{x} = Q - 2c (f_{st} + x - \overline{OA} \sin \varphi t) - B \dot{x}$$

$$m \ddot{x} + B \dot{x} + 2c x = 2c \overline{OA} \sin \varphi t / : m$$

$$\ddot{x} + \underbrace{\frac{B}{m}}_{2\delta} \dot{x} + \underbrace{\frac{2c}{m}}_{\omega^2} x = \underbrace{\frac{2c \overline{OA}}{m}}_h \sin \varphi t$$

$$\ddot{x} + 2\delta \dot{x} + \omega^2 x = h \sin \varphi t \quad \omega^2 = \frac{2c}{m} = \frac{2 \cdot 680}{98} = \frac{2 \cdot 680 \cdot 9,81}{98 \cdot 10} = 1363^{-2}$$

$$2\delta = \frac{B}{m}, \quad \text{ycлo6} \Rightarrow \delta = \omega = \sqrt{\frac{2c}{m}} = \sqrt{136} \Rightarrow 2\delta = 2\sqrt{136} \approx 23,3$$

$$h = \frac{2c \overline{OA}}{m} = \frac{2 \cdot 680 \cdot 0,075 \cdot 9,81}{98 \cdot 10} = 10,2$$

$$\ddot{x} + 23,3 \dot{x} + 136 x = 10,2 \sin 6t$$

$$x_p = A \sin 6t + B \cos 6t \Rightarrow \dot{x}_p = 6A \cos 6t - 6B \sin 6t \Rightarrow \ddot{x}_p = -36A \sin 6t - 36B \cos 6t$$

$$-36A \sin 6t - 36B \cos 6t + 139,8A \cos 6t - 139,8B \sin 6t + 136A \sin 6t + 136B \cos 6t = 10,2 \sin 6t$$

$$-36A - 139,8B + 136A = 10,2$$

$$-36B + 139,8A + 136B = 0 \Rightarrow B = -\frac{139,8}{100} A$$

$$-36A - 139,8 \cdot \left(-\frac{139,8}{100} A\right) + 136A = 10,2 \Rightarrow 295,4A = 10,2 \Rightarrow A = 0,034$$

$$B = -0,047$$

$$x_p = 0,034 \sin 6t - 0,047 \cos 6t \text{ [m]}$$

$$\underline{x_p = 3,4 \sin 6t - 4,7 \cos 6t \text{ [cm]}}$$