



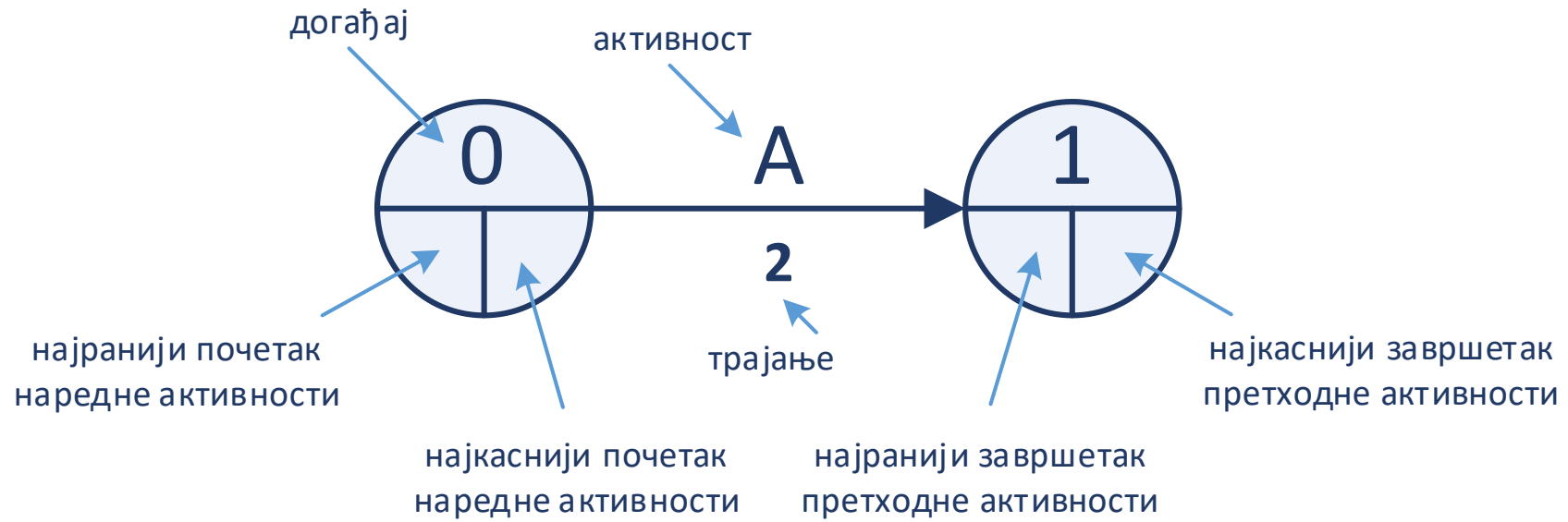
Мрежно планирање

- Вежба 3 -





Правила означавања





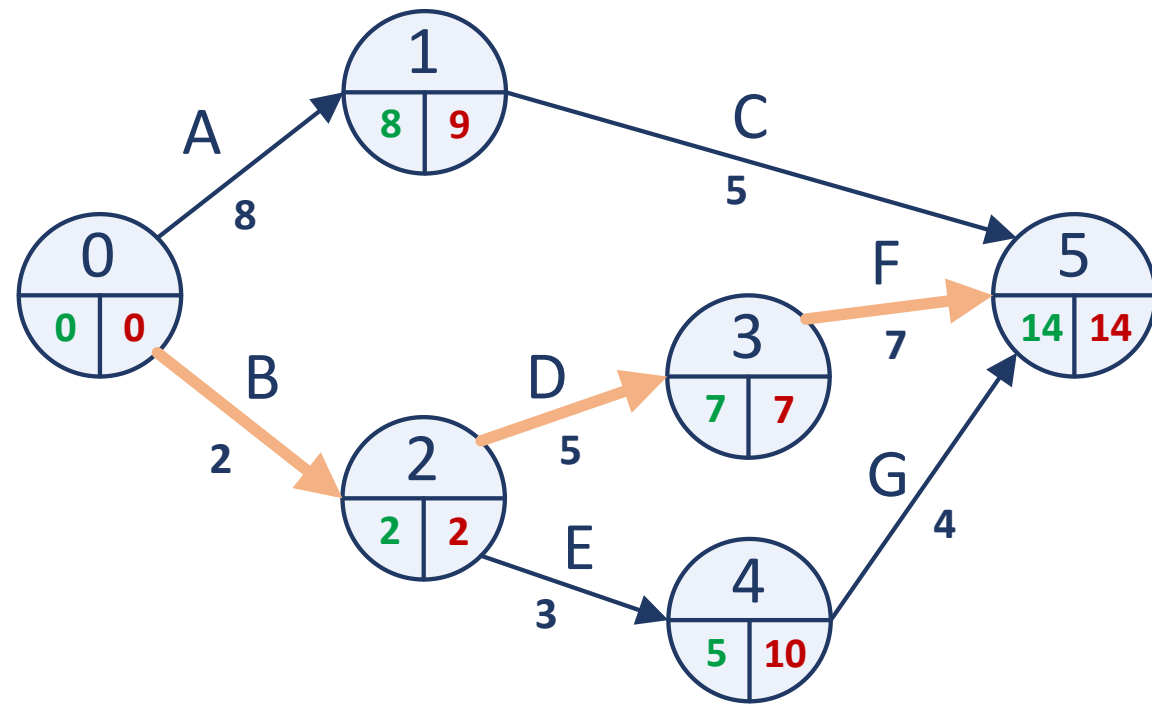
Задатак 1

- За следеће податке нацртати мрежни дијаграм и одредити критични пут.

Активност	Трајање активности	Претходна активност
A	8	-
B	2	-
C	5	A
D	5	B
E	3	B
F	7	D
G	4	E



Решење

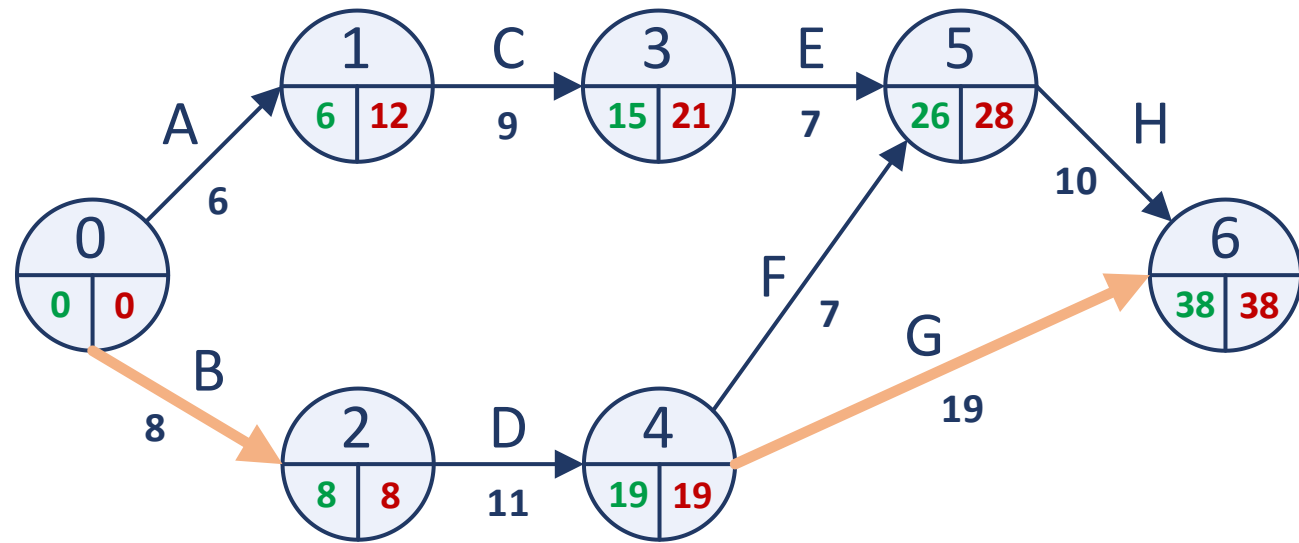




Задатак 2

- За следеће податке нацртати мрежни дијаграм и одредити критични пут.

Активност	Трајање активности	Претходна активност
A	6	-
B	8	-
C	9	A
D	11	B
E	7	C
F	7	D
G	19	D
H	10	E, F





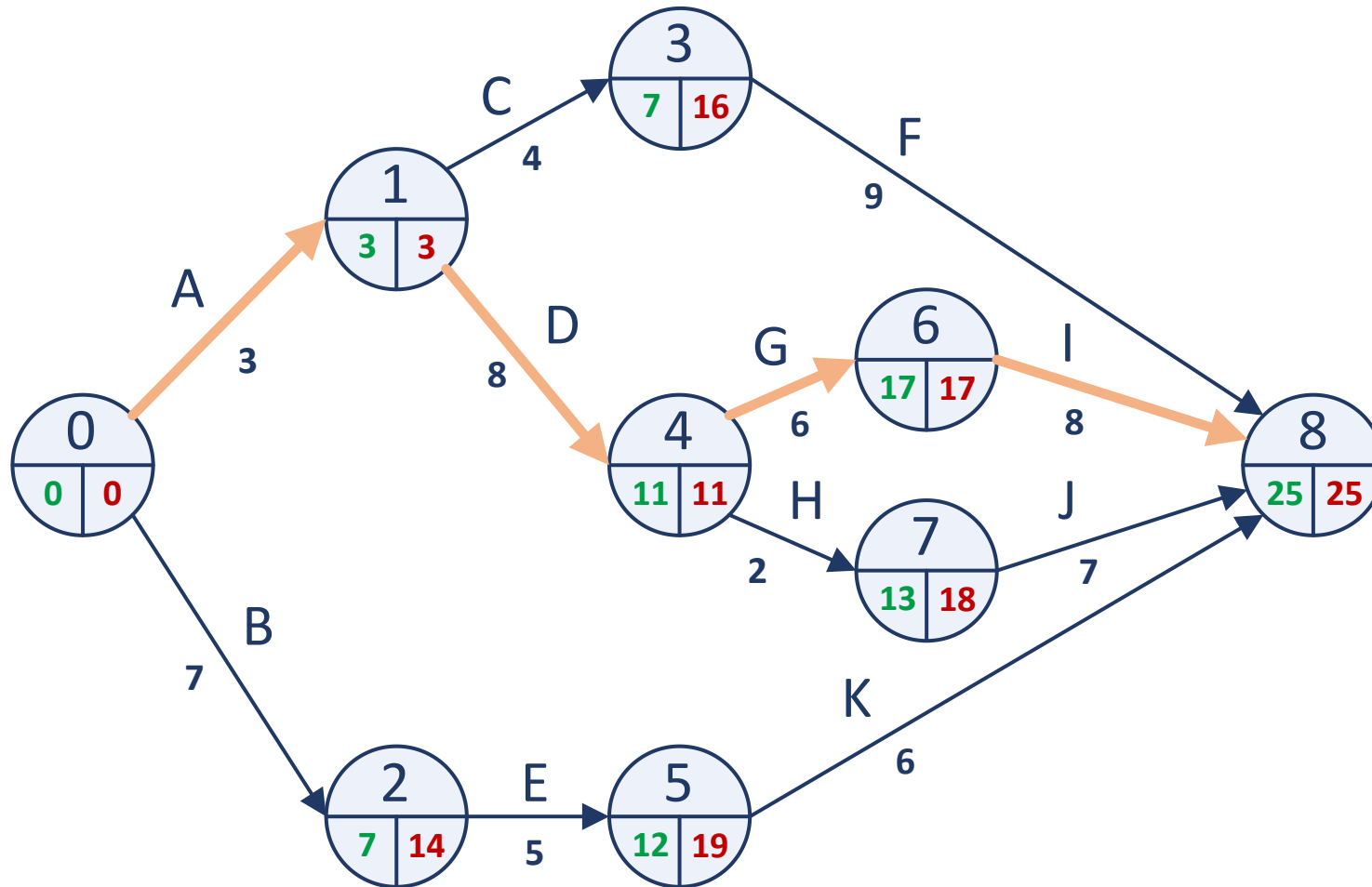
Задатак 3

- За следеће податке нацртати мрежни дијаграм и одредити критични пут.

Активност	Трајање активности	Претходна активност
A	3	-
B	7	-
C	4	A
D	8	A
E	5	B
F	9	C
G	6	D
H	2	D
I	8	G
J	7	H
K	6	E



Решење





Задатак 4

- За следеће податке нацртати мрежни дијаграм и одредити критични пут.

Активност	Трајање активности	Претходна активност
A	4	-
B	7	-
C	3	-
D	8	A
E	2	A
F	8	B
G	9	C
H	4	D
I	6	E
J	2	F, G



Решење

